



CONCURSO REGIONAL DE  
**CONOCIMIENTOS**  
ALFRED NOBEL 2012



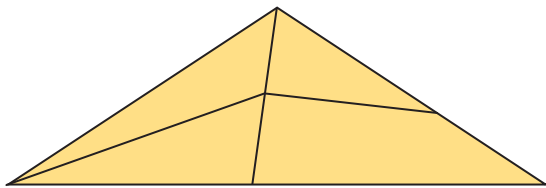
**TERCER GRADO DE PRIMARIA**

**MATEMÁTICA**

01. Hallar el exceso de 50 sobre 15.

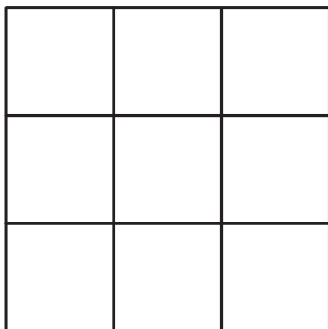
- A) 65
- B) 35
- C) 50
- D) 15

02. ¿Cuántos triángulos hay?



- A) 6
- B) 5
- C) 7
- D) 8

03. Calcula el número de cuadrados.



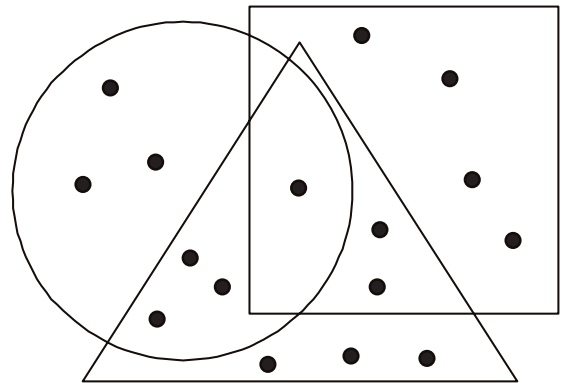
- A) 11
- B) 12
- C) 13
- D) 14

04. Si = 5; = 7; = 3. Hallar el valor de:

$$\frac{\text{hat icon} - \text{hat icon}}{10} + \frac{\text{hat icon} + 3}{10} - 2(\text{hat icon} - \text{hat icon})$$

- A) 3
- B) 4
- C) 11
- D) 8

05. Cuántos puntos pertenecen al triángulo o al círculo, pero no al cuadrado.



- A) 9
- B) 6
- C) 5
- D) 7

06. Si el sustraendo es 7130 y la diferencia es el doble. ¿Cuál es el minuendo?

- A) 21390
- B) 21930
- C) 21391
- D) 21389

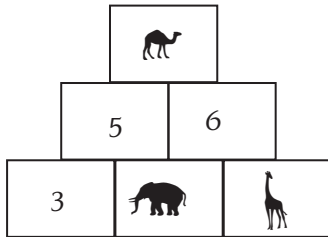


जपजज जपजज जपजज जपजज जपजज जपजज जपजज जपजज जपजज जपजज जपजज जपजज

07. ¿A qué es igual la semidiferencia de 33 y 13?

- A) 36
- B) 10
- C) 11
- D) 20

08. Calcular + + .



- A) 15
- B) 17
- C) 19
- D) 21

09. Si:

$$\begin{array}{r}
 \begin{array}{ccc}
 \text{shell} & 7 & \text{lion} \\
 4 & \text{horse} & 3 \\
 \hline
 5 & 2 & 5
 \end{array}
 \end{array}$$

Hallar + + .

- A) 20
- B) 21
- C) 22
- D) 13

10. Escribe >, < o = según convenga y marca la alternativa correcta.

9DM 5UM 6C 7U  96500  
 8DM 7C 9D 1U  80759  
 9DM  84705

- A) >, >, >
- B) <, >, >
- C) =, <, >
- D) =, =, =

11. Si el VN de  $2x+5$  es 13. ¿Cuál es el valor de "x"?

- A) 5
- B) 10
- C) 4
- D) 2

12. Diego ahorró en abril S/. 347, en mayo S/. 256. Si el mes de junio gastó S/. 139. ¿Cuánto dinero aún le queda?

- A) S/. 602
- B) S/. 395
- C) S/. 117
- D) S/. 464

13. Por la compra de un televisor y un DVD, Rosario pagó S/. 2328, si por el televisor pagó S/. 237. ¿Cuánto pagó por el DVD?



- A) S/. 2091
- B) S/. 2564
- C) S/. 237
- D) S/. 2328


14. Tengo 6 floreros y en cada uno de ellos 7 flores. ¿Cuántas flores hay en total?

- A) 13
- B) 42
- C) 36
- D) 49

15. Resuelve:

$$(5^3:5) - 3^2 \times 2 + 4 \times 2 \times 2 + 6^2$$

- A) 58
- B) 57
- C) 49
- D) 59




## COMUNICACIÓN

### Comprensión de texto

El condor es el ave volador más grande del mundo. Sus plumas son suaves y brillantes. Las plumas de su cuello son blancas y las demás plumas de su cuerpo son negras.

Esta gigantesca ave se alimenta de animales muertos. Cuando no encuentra alimento, el cóndor caza y mata animales, como ovejas y llamas pequeñas. A veces come tanto que luego no puede volar. Pero también sabemos que el cóndor puede pasarse hasta un mes y medio sin comer, y no pierde sus fuerzas. Hace algún tiempo los cóndores abundaban en la sierra del Perú. Poco a poco, la gran cantidad de cóndores ha ido disminuyendo porque son cazados por la gente.

16. Según el texto anterior, ¿Cómo son las plumas del cóndor?
- A) brillantes
  - B) pequeñas
  - C) fuertes
  - D) largas
17. ¿Por qué el cóndor a veces no puede volar?
- A) Porque a veces se pasa un mes sin comer
  - B) Porque a veces come animales muertos
  - C) Porque a veces come demasiado
  - D) Porque a veces vuela demasiado
18. ¿Qué quiere decir “los cóndores abundaban en la sierra”?
- A) Que no había cóndores
  - B) Que había pocos cóndores
  - C) Que había muchos cóndores
  - D) Que había unos cuantos cóndores
19. Antónimo de ESPARCIR:
- A) Dispersar
  - B) Recurrir
  - C) Agrupar
  - D) Divulgar
20. El cazador tenía que \_\_\_\_\_ muchos animales para poderse \_\_\_\_\_ con su novia.
- A) cazar - cazar
  - B) visitar - cazar
  - C) casar - llevar
  - D) cazar - casarse
21. Es el origen del mensaje.
- A) Receptor
  - B) Emisor
  - C) Contexto
  - D) Canal
22. En la palabra “rehusar” encontramos:
- A) dos diptongos
  - B) un hiato
  - C) no hay diptongos
  - D) un diptongo
23. En la siguiente oración, ¿Cuáles son los artículos?:  
\_\_\_\_\_ lápiz, \_\_\_\_\_ cuaderno y \_\_\_\_\_ mochila son nuevos:
- A) el - la - la
  - B) la - el - el
  - C) el - el - la
  - D) lo - la - la
24. Señala el adjetivo calificativo en la oración: “El bombero \_\_\_\_\_ apagó el incendio”.
- A) frío
  - B) osado
  - C) caluroso
  - D) bello

**CIENCIA Y AMBIENTE**

- 25.** El músculo más largo del cuerpo humano es:
- A) macetero
  - B) bíceps
  - C) risorio
  - D) sartorio
- 26.** Sustancia que le da color verde a las plantas.
- A) fotosíntesis
  - B) clorofila
  - C) azúcares
  - D) oxígeno
- 27.** Seres vivos que comen plantas y animales.
- A) carnívoros
  - B) herbívoros
  - C) omnívoros
  - D) aves

**PERSONAL SOCIAL**

- 28.** Sirve para conocer los antepasados y descendientes de una familia.
- A) libro
  - B) árbol genealógico
  - C) revista
  - D) esquema
- 29.** La institución dirigida por el sacerdote es:
- A) Municipalidad
  - B) Hospital
  - C) Comisaría
  - D) Iglesia
- 30.** Es un medio de transporte terrestre, excepto:
- A) bicicleta
  - B) autobús
  - C) bote
  - D) tren

Carhuaz, 30 de Junio del 2012